


Baccalauréat professionnel Technicien d'usinage

Nom:..... Prénom:..... Date:..... Classe: 2 TU

Reliez par une flèche les dessins correspondants aux désignations



- Fraise à surfacer
- Outil de tournage pour la finition
- Le foret
- La fraise 2 tailles cylindrique
- Outil de tournage pour alésage intérieur
- Le foret à pointer
- Outil de tournage pour l'ébauche
- Le taraud
- La fraise 2 tailles cylindrique
- Outil à gorge
- Outil de tournage pour filetage extérieur
- L'alésoir
- Outil de tronçonnage
- Fraise carbure 2 tailles cylindrique
- Le taraud
- Le foret à pointer
- Le foret
- Fraise à surfacer
- L'alésoir
- Fraise 2 tailles cylindrique

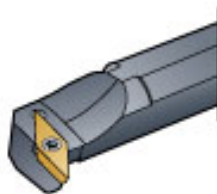

Baccalauréat professionnel Technicien d'usinage

Dessin de l'outil

Image de l'outil

Type d'usage
de l'outil

Utilisation de l'outil
en tournage



Outil à tarauder
 Outil d'alésage extérieur

Outil passe partout

Outil d'ébauche

Outil de finition

Outil de gravure

Outil à perdre le temps

Outil à rainurer

Outil d'ébauche

Outil à couper

Outil d'alésage intérieur

Outil à gorge

Outil de finition

Outil de filetage intérieur

Outil à tronçonner et à
gorge

Outil de tronçonnage

Outil de labourage

Outil à gorge

Outil de filetage extérieur

Outil à perdre le temps

